

	<b>Magnetfeld Lösungen</b>	Fach:
		Name:
		Klasse:
		Datum:


Lösung zum Arbeitsauftrag 2 (Eigenschaften des Feldlinienbildes eines Stabmagneten):

Die magnetischen Feldlinien verlaufen vom Nordpol des Stabmagneten zu dessen Südpol hin. Das Feldlinienbild ist symmetrisch bezüglich der Längsachse des Stabmagneten. Die Feldlinien schneiden sich dabei nicht.


Lösung zum Arbeitsauftrag 2 bis 5 (Feldlinienbilder):

Die Lösungen (Feldlinienbilder) sollten konkret sichtbar gemacht werden:

Arbeitsauftrag 2:



Arbeitsauftrag 3:



Arbeitsauftrag 4:




Arbeitsauftrag 5:



	<b>Magnetfeld Lösungen</b>	Fach:
		Name:
		Klasse:
		Datum:

Lösung der Zusatzaufgabe A:



Lösung der Zusatzaufgabe B:

